
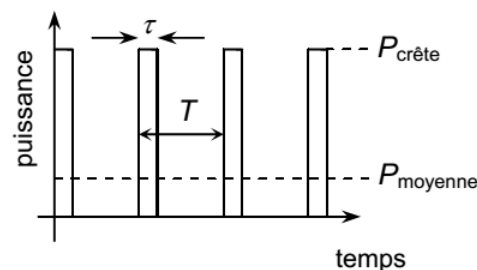
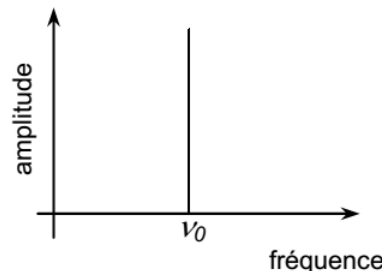
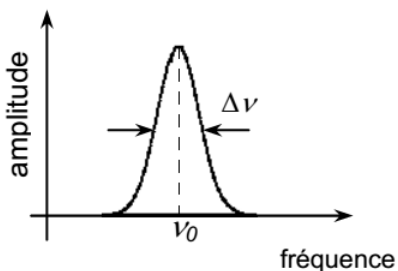
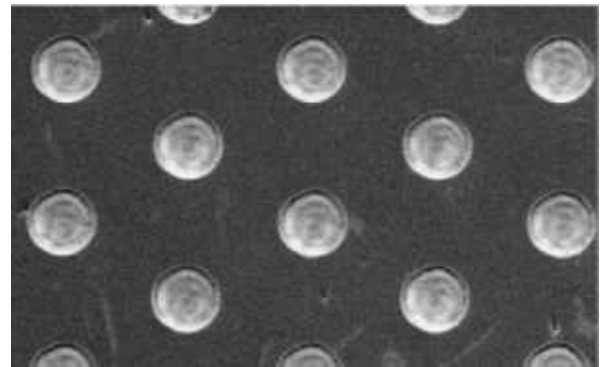


TD10 - MICRO-TEXTURATION DE SURFACE PAR UN LASER FEMTOSECONDE

	Laser continu	Laser pulsé de période de répétition T
Évolution de la puissance au cours du temps	 <p style="font-size: small;">puissance</p> <p style="font-size: small;">temps</p>	 <p style="font-size: small;">puissance</p> <p style="font-size: small;">temps</p>
Spectre en fréquence	 <p style="font-size: small;">amplitude</p> <p style="font-size: small;">fréquence ν</p>	 <p style="font-size: small;">amplitude</p> <p style="font-size: small;">fréquence ν</p>

La micro-texturation de surface est une technologie qui permet d'optimiser la lubrification des pièces métalliques en contact, par exemple dans les moteurs employés dans les sports mécaniques (formule 1, moto grand prix, etc.). Cette micro-texturation est réalisée sur des matériaux appelés DLC (Diamond Like Carbon) déposés en fines couches sur les pièces à lubrifier. Grâce à l'utilisation d'un laser à impulsions ultra-brèves, on crée à la surface des pièces mécaniques un réseau de motifs (cavités, rainures, etc.) ayant des dimensions de quelques dizaines de micromètres qui se comportent comme des micro-réservoirs d'huile (après lubrification).

D'après MAG'MAT | N° 31 | Juillet - Décembre 2009



Les lasers pulsés

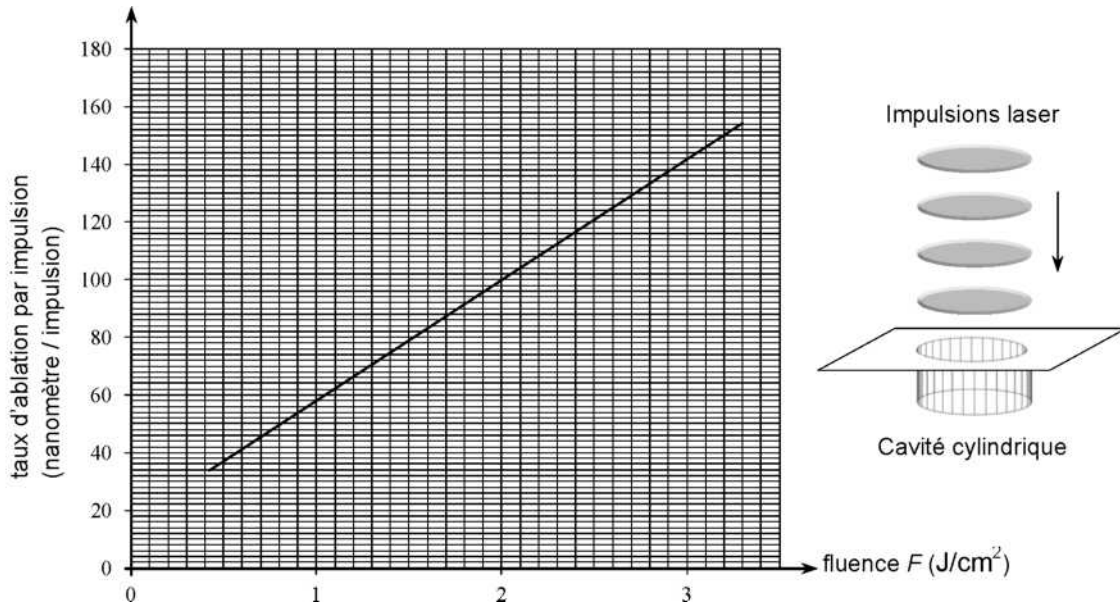
À la différence d'un laser conventionnel qui produit un rayonnement continu, les lasers pulsés émettent des flashes lumineux très brefs qu'on appelle des impulsions. La durée t et la cadence (fréquence) f de ces impulsions sont réglables. Un laser pulsé est dit « femtoseconde » si la durée t est de l'ordre d'une à quelques centaines de femtosecondes. Contrairement aux lasers continus qui produisent un rayonnement monochromatique, les lasers pulsés émettent un rayonnement polychromatique dans une bande de fréquence de largeur $\Delta \nu$ centrée sur une fréquence ν_0 (voir schéma). Les énergies des impulsions femtosecondes peuvent paraître faibles (de l'ordre du mJ à $f = 1$ kHz) mais leur brièveté fait que la puissance instantanée du laser durant une impulsion (puissance de crête) peut atteindre plusieurs gigawatts dans le domaine industriel.

Caractéristiques techniques d'un « laser femtoseconde » infrarouge

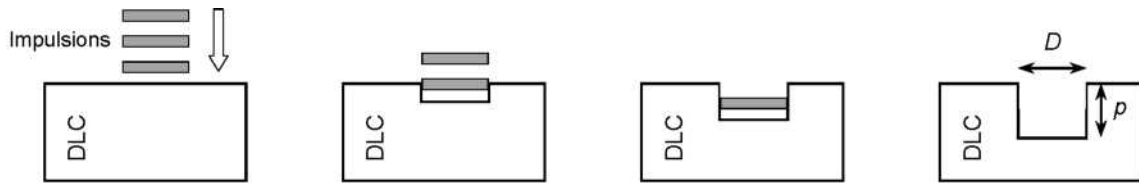
Fréquence centrale du rayonnement émis	$\nu_0 = 375$ THz
Largeur de la bande de fréquence d'émission	$\Delta \nu = 100$ THz
Cadence (fréquence) des impulsions	$f = 1,0$ kHz
Durée d'une impulsion	$\tau = 150$ fs
Puissance de crête atteinte durant une impulsion	$P_{\text{crête}} = 1,0$ GW
Diamètre de la section circulaire du faisceau	$D = 98$ μm

Cavité de diamètre D et de profondeur p dans une couche de DLC

Lorsqu'on dirige un faisceau laser pulsé femtoseconde vers une surface recouverte de DLC, chaque impulsion laser apporte suffisamment d'énergie pour graver (creuser) une cavité cylindrique dans la couche de DLC. On admet que le diamètre de la cavité gravée correspond au diamètre D du faisceau laser utilisé. On a tracé ci-dessous la courbe donnant le taux d'ablation du DLC par impulsion, c'est-à-dire la profondeur de la cavité gravée par une seule impulsion laser, en fonction de la fluence F du laser utilisé. La fluence est obtenue en divisant l'énergie d'une impulsion laser (en J) par la surface circulaire gravée (en cm²).



On admettra, comme le montre les schémas ci-dessous, que la profondeur totale p de la cavité gravée est proportionnelle au nombre d'impulsions reçues et donc à la durée Δt de la gravure.



Données

Gamme de longueurs d'onde correspondant aux radiations visibles « rouges » : [620 nm - 780 nm] ;

Préfixes utilisés dans le système international d'unités :

1 tera (T) = 10^{12}

1 femto (f) = 10^{-15}

Constante de Planck : $h = 6,63 \times 10^{-34}$ J.s.

Vitesse de la lumière : $3,00 \times 10^8$ m.s⁻¹

Relation entre puissance et énergie : $Energie = Puissance \times Temps$

Questions

I- Domaine d'émission du laser femtoseconde

- 1) Le laser femto seconde présenté est dit « infrarouge ». Justifier.
- 2) Ce laser apparaît rouge à l'observateur. Justifier.

II- Caractéristiques d'une impulsion du laser femtoseconde

- 3) Montrer que l'énergie transportée par une seule impulsion du laser précédent est égale à 0,15 mJ.
- 4) Évaluer le nombre de photons produits par le laser durant une seule impulsion.

III- Gravure par le laser femtoseconde

On utilise le laser femtoseconde pour graver une cavité dans une couche de DLC.

- 5) Déterminer la fluence du laser étudié, puis la durée Δt nécessaire à la gravure d'une cavité circulaire cylindrique de 98 μm de diamètre et de 6 μm de profondeur.